

平成23年度

福島成蹊中学校 1期入試問題

社 会

平成22年12月5日(日)

時間 11時45分～12時30分(45分間)

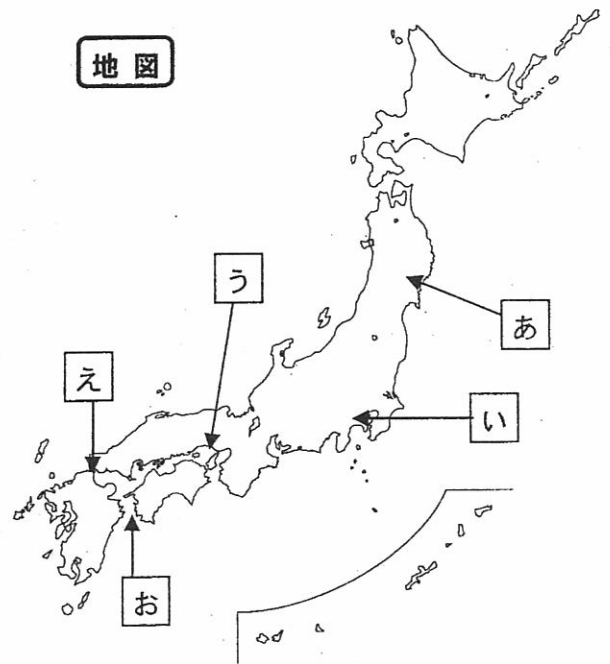
「はじめ」の合図があるまでは、この問題用紙の中を開いてはいけません。

注意事項

1. 問題用紙と解答用紙が配布されます。
2. 問題用紙は1ページから2ページまでです。
3. 問題は【1】から【3】までです。
4. 監督者の指示に従い、解答用紙の注意事項にそって必要事項を記入しなさい。
5. 問題の内容についての質問は、一切応じません。それ以外のことがらについてたずねたいことがあれば、手をあげて監督者に聞きなさい。
6. 監督者の「はじめ」の合図で始め、「やめ」の合図ですぐやめなさい。

【1】下の年表と地図を見て、次の各問いに答えなさい。

奈良	710	奈良に都をうつす
	752	東大寺の大仏完成… (ア)
平安	(イ)	京都に都をうつす
	1016	(ウ) 氏が実権をにぎる
	1185	壇ノ浦の戦い… (エ)
鎌倉	1192	(オ) が征夷大将軍になる
	1333	鎌倉幕府がほろびる
室町	1338	足利尊氏が征夷大将軍になる
	1467	応仁の乱がおこる
	1573	室町幕府がほろびる… (カ)
安土	1590	豊臣秀吉の全国統一
桃山	1592	秀吉が朝鮮侵略を始める
江戸	1603	江戸幕府が開かれる
	1639	鎖国令… (キ)
	(ク)	初めてペリーが浦賀に来る
	1866	薩長同盟が結ばれる… (ケ)



- 年表中のアについて、仏教の力にたよって国家を守ろうとして大仏を作らせた天皇は誰か。天皇の名前を答えなさい。
- 年表中のイについて、京都に都が移されたのは何年か。数字で答えなさい。
- 年表中のウについて、たくみに他の貴族をしりぞけながら娘を天皇のきさきにし、その子を次の天皇に立てて勢力をのばした一族の名字を漢字二文字で答えなさい。
- 年表中のエについて、平氏がほろぼされた壇ノ浦とはどこか。地図中の (あ) ~ (お) から一つ選び記号で答えなさい。
- 年表中のオについて、鎌倉幕府を開いた人物は誰か。名前を答えなさい。
- 鎌倉幕府が開かれた鎌倉とはどこか。地図中の (あ) ~ (お) から一つ選び記号で答えなさい。
- 年表中のカについて、将軍足利義昭を京都から追放し、室町幕府をほろぼした右の資料1の人物は誰か。名前を答えなさい。
- 年表中のキについて、鎖国令が出された後も長崎の出島で貿易が許されたヨーロッパの国はどこか。国名を答えなさい。
- 年表中のクについて、アメリカからペリーが4せきの軍艦を率いて浦賀(神奈川県)に初めて入港した年は何年か。数字で答えなさい。
- 年表中のケについて、土佐藩(高知県)出身で薩長同盟の仲立ちをした右の資料2の人物は誰か。名前を答えなさい。


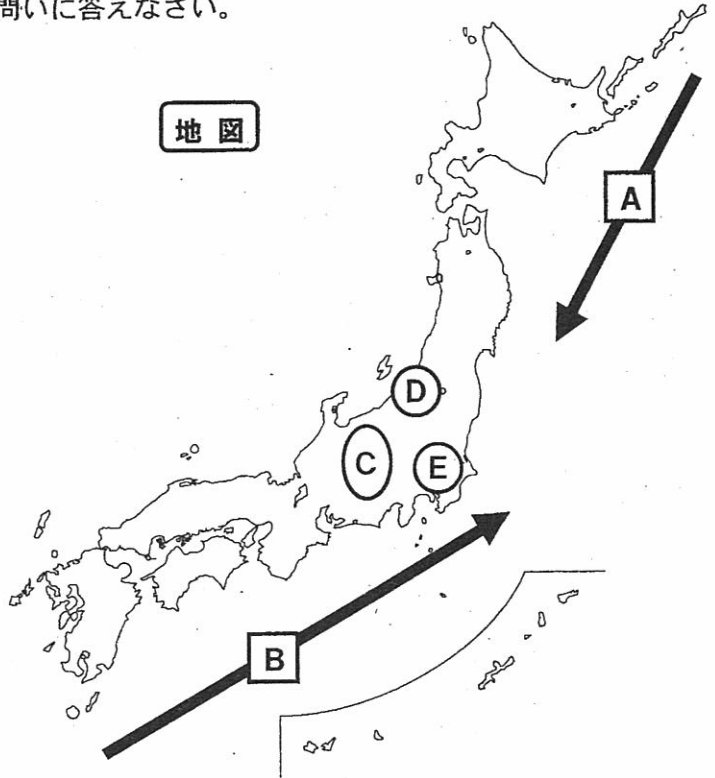


【2】右の地図とグラフをみて、次の各問いに答えなさい。

- (1) 右の地図中におけるAの寒流名を答えなさい。
- (2) 右の地図中におけるBの暖流名を答えなさい。
- (3) 右の地図中におけるCの範囲にある山脈・山地を次から一つ選び答えなさい。

- | | |
|------|------|
| 奥羽山脈 | 飛騨山脈 |
| 中国山地 | 四国山地 |
| 九州山地 | 紀伊山地 |

- (4) 右の地図中におけるD付近を流れる日本最長の河川を何というか。河川の名前を答えなさい。
- (5) 右の地図中におけるE付近に広がる日本最大の平野を何というか。平野の名前を答えなさい。
- (6) 次の①～⑤は日本の都道府県のシルエットである。それぞれの都道府県名を答えなさい。ただし、大きさは均等ではない。



【3】次の各問いに答えなさい。

- (1) 1978年に日本と平和友好条約を結んだ国はどこか。次から選び答えなさい。

【大韓民国 中華人民共和国 朝鮮民主主義人民共和国】

- (2) 右の写真は日本の国会議事堂である。日本の国会は二つの院から成り立っているが、それは衆議院と何か。名前を答えなさい。



- (3) 下の図は1946年に公布された日本国憲法の三つの柱を表している。図中の(ア)～(ウ)に適する語句を答えなさい。

基本的
(ア)
の尊重

(イ)
主義

(ウ)
主権